

1| Welche Form ist es? Trage ein.



A




B



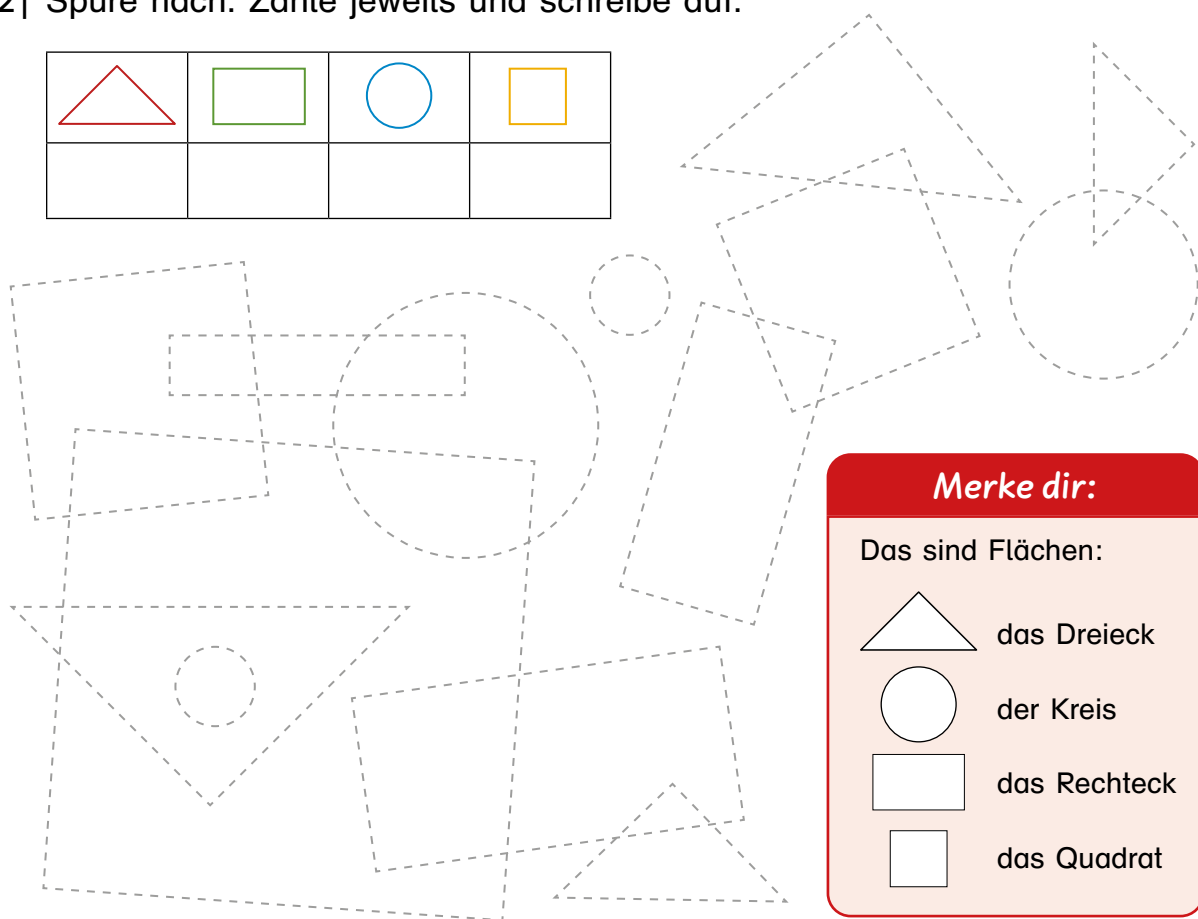
C



D



2| Spure nach. Zähle jeweils und schreibe auf.


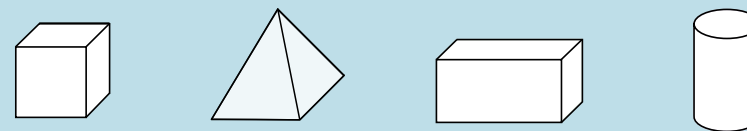


Merke dir:

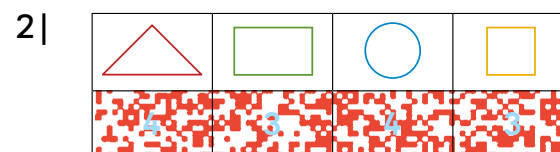

Das sind Flächen:

- das Dreieck
- der Kreis
- das Rechteck
- das Quadrat

★ Zeichne mit diesen Bausteinen verschiedene Flächen. Du kannst auch Körper basteln. Ab Seite 47 findest du die Vorlagen.



Lösungen



Richtig klasse!	Gut!	Könnte besser sein!

1| Zeichne das Spiegelbild. Kontrolliere mit dem Spiegel.



Merke dir:

An der **Spiegelachse** entsteht das **Spiegelbild**, d. h. die Figuren sehen spiegelbildlich (gleich) aus.

2| Verbinde mit dem Spiegelbild. Trage die Zahl ein.


A		B		C		D		A	<input type="text"/>
1		2		3		4		B	<input type="text"/>
								C	<input type="text"/>
								D	<input type="text"/>

★ Stelle Faltbilder her.



Lösungen

1| Wie oft eine gelohnt? Klicke den Lösung-Sticker auf und kontrolliere!



- 2| **A**
- B**
- C**
- D**

Lösungs-Sticker

5



Richtig klasse!

Gut!

Könnte besser sein!